









	<p>Quel étalon peut remplir la bouteille en deux fois ? Quel étalon peut remplir la bouteille en quatre fois ? Quel étalon peut remplir la bouteille en dix fois ?</p>
	<div data-bbox="256 409 639 938"></div> <div data-bbox="687 409 1034 938"></div> <div data-bbox="1134 409 1414 938"></div>
	<p>Pour remplir la bouteille, il faut :</p> <p>.....</p> <p>ou</p> <p>.....</p> <p>ou</p> <p>.....</p>
	<p>Une petite bouteille contient la même quantité d'eau que toutes petites bouteilles.</p> <p>Une petite bouteille contient la même quantité d'eau que grands gobelets.</p>
	<div data-bbox="389 1823 485 2092"></div> <div data-bbox="700 1924 759 2092"></div> <div data-bbox="1007 1991 1099 2092"></div> <div data-bbox="1315 1995 1374 2092"></div> <p>..... </p>